

السنة الدراسية: 2026/2025

المستوى: 3 لغات

المدة: 02 ساعة

اختبار الثلاثي الثاني في ماد التاريخ والجغرافيا

مادة التاريخ

الجزء الأول: (6ن)

".. ان التضحيات التي ظل الشعب الجزائري يبذلها والمقاومة التي تمسك بها هي وحدها التي استطاعت أن تحبط الفخاخ العديدة للحيلولة دون قيام جمهورية جزائرية لقد أثيرت قضية القوة الثالثة بهدف ضرب تماسك جيش التحرير الوطني والقيمة التمثيلية لجبهة التحرير الوطني كما طرحت مشاريع التقسيم من أجل النيل من وحدة الجزائر أضف الى ذلك مشروع قسنطينة:"

المرجع: أحمد طالب الابراهيمى مذكرات جزائرية - الجزء الأول - ص 133

1- اشرح ما تحته خط في النص. (3ن)

* زيغود يوسف

محمد بوضياف

2- عرف بالشخصيات التالية: (3ن) *

الجزء الثاني: (4ن)

جاء في بيان أول نوفمبر 1954:

".. وهكذا نتخلص من جميع التنازلات الممكنة ونتيح الفرصة لجميع المواطنين الجزائريين من جميع الطبقات الاجتماعية وجميع الأحزاب والحركات الجزائرية أن تنظم الى الكفاح الثوري دون أي اعتبار آخر..."

المطلوب: انطلاقا من العبارة واعتمادا على ما درست أكتب مقالا تاريخيا تبين فيه:

1. الظروف الداخلية لاندلاع الثورة.

2. استراتيجية الثورة لتعبئة وتنظيم الطاقات البشرية.

مادة الجغرافيا

الجزء الأول: (6ن)

” يشكل المحور الممتد من بوسطن إلى بلتيمور ما يعرف بالواجهة الاطلسية عبارة عن ميغالوبوليس ... ومقر العاصمة السياسية واشنطن ومقر منظمة ألينا ALENA التي تضاهي فعاليتها منظمة البنيوكس BENELUX التي كانت النواة الأولى لتكتل الاتحاد الأوروبي.”

المرجع: الكتاب المدرسي لسنة الثالثة ثانوي، طبعة، ص54 بالتصرف

1. اشرح ما تحته خط في النص (2ن)
2. اليك الجدول التالي يمثل % الصادرات مجموعة السبعة G7 ومجموعة البريكس BRICS لسنة 2021.

المجموعات	مجموع السبعة G7	مجموعة البريكس BRICS	بقية العالم
% الصادرات	28.1%	20.7%	51.2%

المصدر: البنك الدولي 2022

- مثل % الصادرات في دائرة نسبية نق 4 سم (2ن)

3. حدد على الخريطة المرفقة الدول العضوة في منظمة ألينا ALENA (2ن)

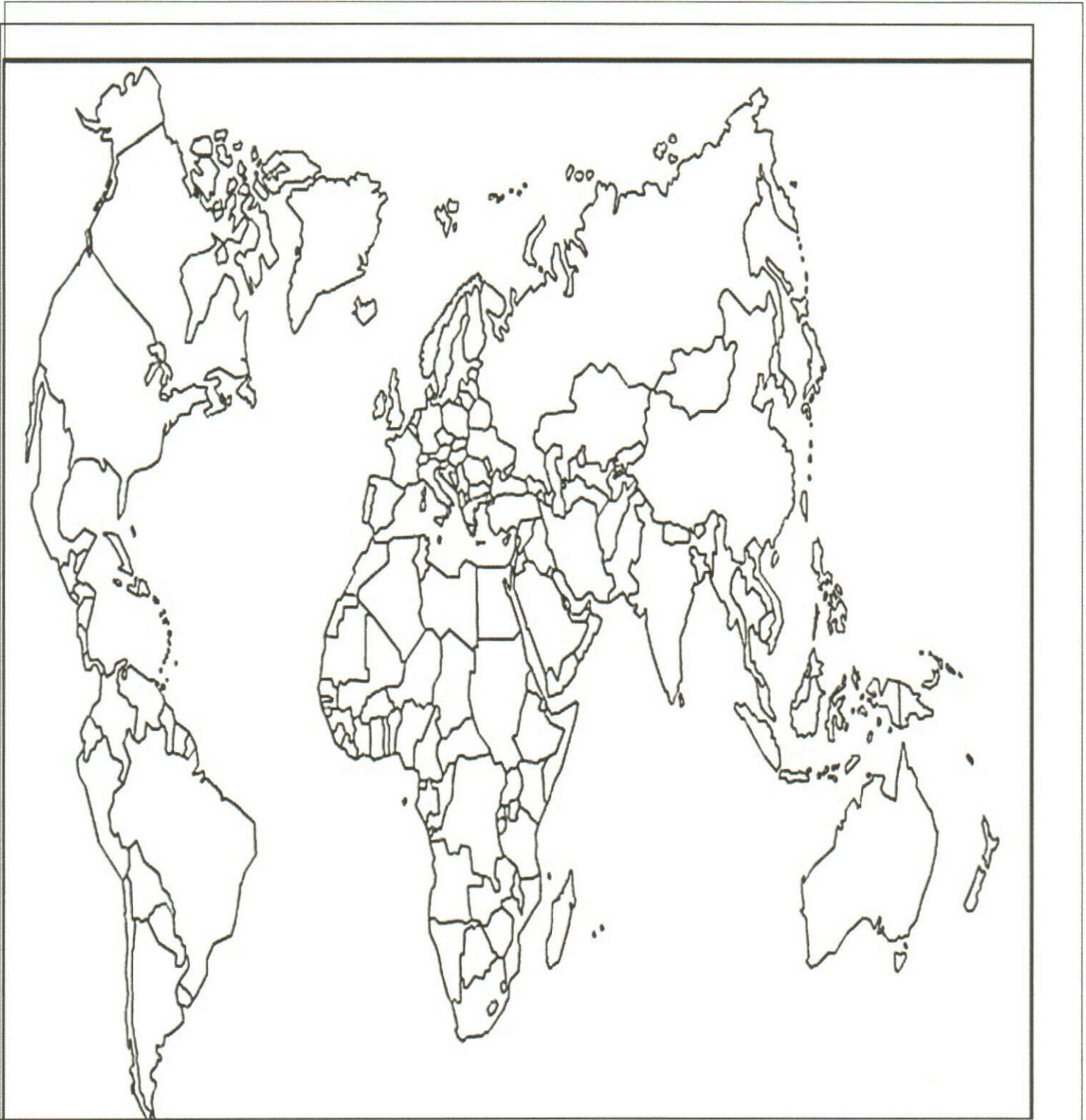
الجزء الثاني (4ن)

توجهت دول اروبا الغربية بعد الحرب العالمية الثانية نحو التكتل للقضاء على مخلفات الحرب العالمية الثانية ومواجهة القوى الكبرى ومن ذلك تأسيس السوق الاوروبية المشتركة 1957 لتصبح اليوم أكبر تكتل اقتصادي.

المطلوب انطلقا من الفقرة واعتمادا على ما درست أكتب مقالا جغرافيا تبين فيه:

1. العوامل التاريخية والسياسية التي ادت الى تحول الاتحاد الاوروبي الى قطب اقتصادي.

2. مظاهر هذا التحول.



قرار إنشاء رقم 2021/151
رخصة فتح رقم 2022/198

الجمهورية الجزائرية الديمقراطية الشعبية
وزارة التربية الوطنية
مديرية التربية لشرق ولاية الجزائر

AQUA SCHOOL
Groupe
المجمع المدرسي الخاص أكواسكول
Groupe scolaire privé AQUASCHOOL

السنة الدراسية: 2026/2025

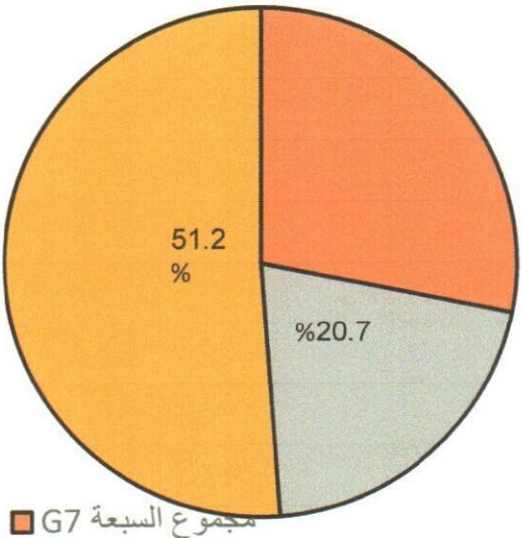
المستوى : الثالثة لغات أجنبية


المدة : 02 سا

اختبار الثلاثي الثاني مادة التاريخ والجغرافيا

إجابة النموذجية على الموضوع اختبار الثلاثي الثاني المستوى: الثالثة لغات أجنبية

المطلوب	الإجابة	الجزء الاول مادة التاريخ	المجموع6
شرح المصطلحات	<p>القوة الثالثة: احدى استراتيجيات السياسة الاغرائية التي اتبعها ديغول وتتمثل في انشاء طبقة برجوازية عميلة من الجزائريين كبديل عن جبهة التحرير الوطني. لتغليب الرأي العام العالمي.</p> <p>جبهة التحرير الوطني: هي القيادة الجماعية للثورة التحريرية الكبرى 1962/1954 والممثل الشرعي والوحيد للشعب التحرير الوطني قام على انقاض اللجنة الثورية للوحدة والعمل.</p> <p>مشروع قسنطينة: هو مشروع اغرائي و احدى استراتيجيات ديغول في 4 أكتوبر 1958 ويتضمن بناء السكنات . توزيع الأراضي على الجزائريين و توظيفهم . وبناء المدارس . هدفه القضاء على الثورة وعزل الشعب.</p>		1 1 1
والتعريف بالشخصيات	<p>محمد بوضياف : مناضل جزائري من حركة انتصار الحريات الديمقراطية احد مؤسسي المنظمة الخاصة احد أعضاء لجنة 22 ولجنة 6 منسق بين المناطق العسكرية 1954 اختطف في القرصنة الجوية 1956/10/22 ولم يطلق سراحه الا بعد وقف اطلاق النار اصبح رئيس لدولة الجزائرية اغتيل في عنابة.</p> <p>زيغود يوسف : مناضل جزائري عضو في حركة انتصار الحريات الديمقراطية احد اعضاء لجنة 22 نائب لديدوش مراد على الولاية الثانية قسنطينة قاد هجمات الشمال القسنطيني استشهد اثناء الثورة.</p>		1.5 1.5
المقدمة	تقبل أي مقدمة وظيفية	الجزء الثاني مادة التاريخ	المجموع4
العرض		مجزأة	0.5
			0.25*6
			0.25*6
			1.5

		<ul style="list-style-type: none"> • توسيع نطاق الثورة باشتراك الشعب في هجمات 20 أوت 1955 بالشمال القسنطيني التي قام بها الشهيد زيغود • تأطير الجماهير من خلال (تأسيس الإتحاد العام للعمال الجزائريين 1956 /02/24 و الإتحاد العام للطلبة المسلمين الجزائريين 1956/05/19 وتأسيس فريق جبهة التحرير الوطني لكرة القدم .) • القيام بالاضرابات إضراب 8 أيام 28جانفي 4فبراير 1957 • القيام بمظاهرات 11 / 12 / 1960 في الجزائر ومظاهرات 17 / 10 / 1961 بفرنسا 	الخاتمة
	05	تقبل أي خاتمة وظيفية	
	العلامة	الإجابة الجزء الأول مادة الجغرافيا	المطلوب
	1	<p><u>ميغالوبوليس</u>: منطقة تجمع المدن الكبرى تمتد على مئات الكلومترات نجده في الدول المتقدمة مثل الوم أ واليابان</p> <p><u>الاتحاد الأوروبي</u>: هو كتل اقتصادي تأسس في معاهدة روما 25 مارس 1957 من طرف 6 دول فرنسا . ايطاليا . ألمانيا الغربية . بلجيكا . هولندا .</p> <p>لوكسمبورج . التي نصت على إنشاء السوق الأوربية المشتركة بجعل هذه الدول سوقا واحدة ورفع الحواجز الجمركية وقد انضمت إليها دول أوربية أخرى فيما بعد حتى وصلت الى ما هي عليه وهو الاتحاد الأوروبي ب 27 دولة .</p>	شرح المفاهيم والمصطلحات
	1 0.25 0.25 0.5	<p>نسبة صادرات مجموعة 7 ومجموعة البريكس</p>  <p>■ مجموع السبعة G7</p> <p>■ مجموعة البريكس BRICS</p> <p>■ بقية العالم</p>	<p><u>رسم الدائرة النسبية</u></p> <p><u>الإنجاز</u></p> <p><u>المفتاح</u></p> <p><u>المقياس</u></p> <p><u>العنوان</u></p>

<p>1.5 0.25 0.25</p>	<p><u>الإنجاز</u> <u>المفتاح</u> <u>العنوان</u></p> 	<p><u>خريطة الدول</u> <u>العضوة في</u> <u>منظمة ألينا</u> <u>ALNA</u></p>
	<p>العلامة مجزأة</p>	<p>محاور الموضوع</p>
<p>المجموع 6</p>	<p>0.5</p>	<p>المقدمة</p>
<p>1.5</p>	<p>0.25*6</p>	<p>العرض</p>
<p>1.5</p>	<p>0.25*6</p>	<p>تقبل أي مقدمة وظيفية</p>
<p>1.5</p>	<p>0.5</p>	<p>الخاتمة</p>
	<p>الجزء الثاني مادة الجغرافيا</p>	<p>1. <u>العوامل التاريخية والسياسية التي ادت الى تحول الاتحاد الاوروبي الى قطب اقتصادي .</u></p> <ul style="list-style-type: none"> • تعتبر مهد الثورة الصناعي • الهيمنة الاستعمارية واستنزاف ثروات العالم الثالث • الاستفادة المساعدات من الأمريكية في اطار مشروع مارشال • الاستقرار السياسي • سيادة الديمقراطية والتداول على السلطة • تكتلها في منظمة فعالة الاتحاد الأوربي <p>2. <u>مظاهر هذا التحول.</u></p> <ul style="list-style-type: none"> • مكن الاتحاد من تجاوز خلافاته واستعادة مكانته الاقتصادية والسياسية • اصبح من أقطاب الثالوث العالمي • إقامة صناعات ثقيلة كصناعة الطائرات • تحسين المستوى المعيشي للفرد الأوربي • تحول الاتحاد إلى القوة الديموغرافية الثالثة • أصبح يحتكر 42 بالمئة من المبادلات التجارية العالمية